

1 つぎの日本に住んでいる留学生たちの会話文を読んで、あとの問いに答えなさい。

- A 君：やあ！みんな！おひさしぶりー！新型コロナウイルスの影響もあってなかなか会えなかったけど、元気だった？
- B さん：私は大丈夫だった。でも、「あなたの国から感染がひろがったんだ。」っていう人がいたから、それを言われたときは少し悲しかったわ。
- C 君：僕の国でも夏前にロックダウンがあって、11月から2度目のロックダウンがあると聞いて少し不安だよ。
- D さん：私のところも影響がかなりあったわ。3月から出入国が禁止されていて、未だに帰れないの。
- E 君：みんな大変だったんだなあ。僕の国でも国籍を持つ人や永住者を除いてすべての人の入国が禁止されているよ。
- A 君：僕達は去年よりも前に日本に来ているから影響はなかったけれど、今年から日本に留学しようとしていた人の多くは日本に来ることができずに留学することをあきらめた人も多かったみたいだからね。ところで、みんなは日本に来てからびっくりしたことや大変だったことはある？
- B さん：私は同じ字が使われているから大体通じると思っていたけど、同じ字でも意味が違っていたり、字自体の形が違って何の字か分からなかったりして、時々困ったことがあったわ。
- C 君：僕は、日本の小中学校の給食でも人気の上位にくる（あ）が生まれた国だけど、いくらそれが生まれた国でも毎日食べるわけじゃないから、「毎日食べるの？」って聞かれて苦笑いするしかなかったよ。それから、①ノイシュバンシュタイン城という世界遺産に指定されているお城があるけど、見た目は中世の頃のお城みたいだけど、今から100年ちょっと前につくれられた結構新しいお城なんだよ。
- D さん：私の国はインカ帝国時代の②マチュピチュの遺跡が世界遺産に指定されていて世界的に有名なんだけど、山の上の標高の高いところにあるから私自身は行ったことがなくて、そのことを言うと驚かれてしまったわ。
- E 君：僕も自分の国の中で人口が一番多い都市に住んでいるんだけど、「コアラやカンガルー、よく見るの？」って聞かれてしまって困ったよ。街中にはいるわけないし、僕も動物園でしか見たことないからね。それから、僕の国にも③ウルルという世界遺産があるけど、2019年10月から先住民に対する配慮から登山が禁止になったんだ。ところで、A君はどうだったの？
- A 君：僕も、日本の小中学校の給食でも人気の上位にくる（い）が生まれた国だけど、毎日食べるかどうかというよりも、日本のようにごはんにかけるだけのものではないから説明に困ったよ。それから、④タージマハルという世界遺産の建物があるけど、この建物はむかしの王妃のお墓だから、宮殿じゃないんだよなあ・・・。
- B さん：私も、日本人なら大好きな人が多い（う）が生まれた国だと思われているけど、（う）は日本に住んでいる私達の国の出身者がつくったものなので、私の国のものとはちがうわ。めん類が発達した国という点ではまちがいないけど。それから、私の国で世界遺産に登録されているもののひとつに⑤万里の長城があって、多くの人が紀元前にはじめて皇帝を名のった人が命令してつくったものだと思っているけど、万里の長城のなかでも有名な場所は、今から500年ぐらい前につくられたものなのよ。

C 君：へえ、いろいろあるんだなあ。

Dさん：そういえば、E君の国の国旗にイギリスの国旗が含まれているけど、どうしてなの？

E 君：それはね。(X) からのんだ。

A 君：そうなんだ。国旗で国の成り立ちが分かるなんてすごいね。やっぱり国旗は、国の顔として大事なもののなんだね。

問1 下線部①～⑤にあてはまる写真を、つぎのア～クから、それぞれひとつ選び記号で答えなさい。

ア



イ



ウ



エ



オ



カ



キ



ク



問2 (あ) ～ (う) にあてはまる食事のメニューを、つぎのア～オからそれぞれひとつ選び、記号で答えなさい。

ア ラーメン イ ハンバーグ ウ カレー エ チャーハン オ スパゲティ

問3 A～Eの登場人物の出身地としてあてはまる国名を、つぎのア～ケからそれぞれひとつ選び、記号で答えなさい。

ア ギリシャ イ 中国 ウ タイ エ ケニア オ ペルー
カ ドイツ キ 韓国 ク インド ケ オーストラリア

問4 会話文の前後関係を考えながら、(X) にあてはまる文を答えなさい。

- 2 さとし君とまおさんは、夏休みの自由研究で、東京オリンピックのサポート自治体について調べました。二人がまとめた表を見て、あとの問いに答えなさい。

さとし君のサポート自治体調べ（東日本編）

都市名	都道府県	サポート国	その街で特徴的なもの	都道府県で日本一のもの
函館	北海道	カナダ	①五稜郭	②生乳、こんぶ類、小豆
弘前	青森	ブラジル	ねぷたまつり	③りんご、にんにく、ごぼう
木更津	千葉	ナイジェリア	海（あ）	らっかせい、しょうゆ
敦賀	福井	④ポーランド	へしこ	（い）フレーム、⑤漆器

まおさんのサポート自治体調べ（西日本編）

都市名	都道府県	サポート国	その街で特徴的なもの	都道府県で日本一のもの
志摩	三重	⑥スペイン	横山展望台	⑦真珠装身具、いせえび
松山	愛媛	マレーシア	（う）	タオル、養殖マダイ、養殖真珠
美作	岡山	ベトナム	桃太郎	昼表、学生服
別府	大分	フィジー	とり天	干しいたけ、⑧温泉湧出量

（各都道府県ホームページおよび「データで見る県勢 2020」より作成）

- 問1 下線部①について、あてはまる写真を、つぎのア～エからひとつ選び、記号で答えなさい。

ア



イ



ウ



エ



- 問2 下線部②について、北海道は生乳生産量が日本一ですが、その多くはバターやチーズに加工されます。その理由を答えなさい。

- 問3 下線部③について、りんご生産量の都道府県別ランキングにあてはまるものを、つぎのア～ウからひとつ選び、記号で答えなさい。

おもな果樹生産量の都道府県別ランキング

数値は、生産量全体の割合（％）

	1位		2位		3位		4位		5位	
ア	青森	58.9	長野	18.8	岩手	6.3	山形	5.5	福島	3.4
イ	山梨	23.9	長野	17.8	山形	9.2	岡山	8.8	福岡	4.2
ウ	和歌山	20.1	静岡	14.8	愛媛	14.7	熊本	11.7	長崎	6.4

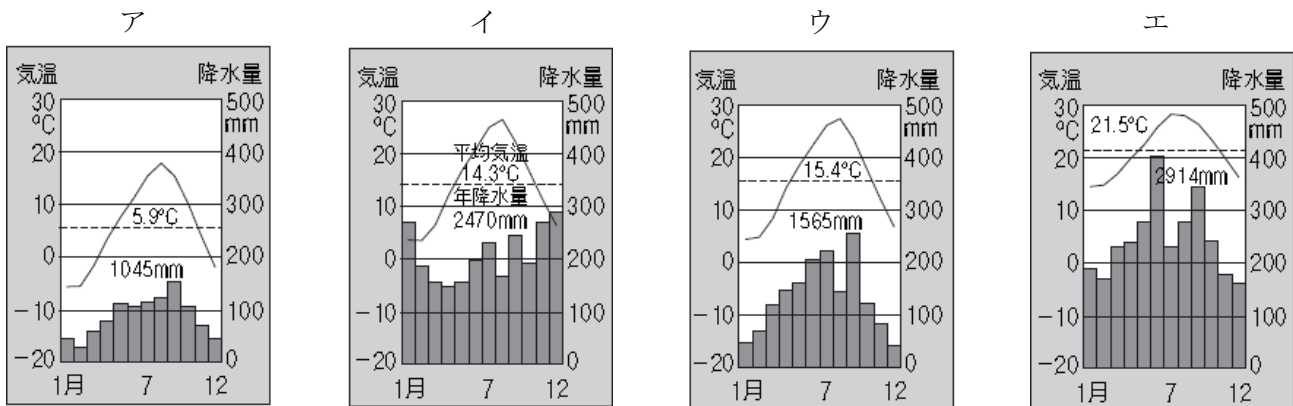
（日本国勢図会 2020/21 版より作成）

問4 下線部④について、敦賀市がポーランドのサポート自治体になった理由は、第二次世界大戦前後にポーランドなどから逃れたユダヤ人の多くが、敦賀港から日本に入国したというできごとがあったからです。このできごとに大きな役割をはたした人物を、つぎのア～エからひとつ選び、記号で答えなさい。

- ア 近衛文麿 イ 杉原千畝 ウ 野口英世 エ 平塚らいてう

問5 下線部⑤について、つぎにあげた地名は、日本のおもな漆器産地です。この産地の分布から、漆器の産地は湿度の高い環境が適していることがわかります。年間を通して湿度が高い、日本海側の気候をしめした雨温図を、つぎのア～エからひとつ選び、記号で答えなさい。

津軽塗 (青森県)	^{ひでひら} 秀衡塗 (岩手県)	^{なるこ} 鳴子塗 (宮城県)	^{かわつら} 川連漆器 (秋田県)
会津塗 (福島県)	新潟漆器 (新潟県)	高岡漆器 (富山県)	若狭塗 (福井県)
輪島塗、山中漆器、金沢漆器 (石川県)		木曾漆器 (長野県)	飛騨春慶 (岐阜県)
京漆器 (京都)	紀州漆器 (和歌山県)	琉球漆器 (沖縄県)	



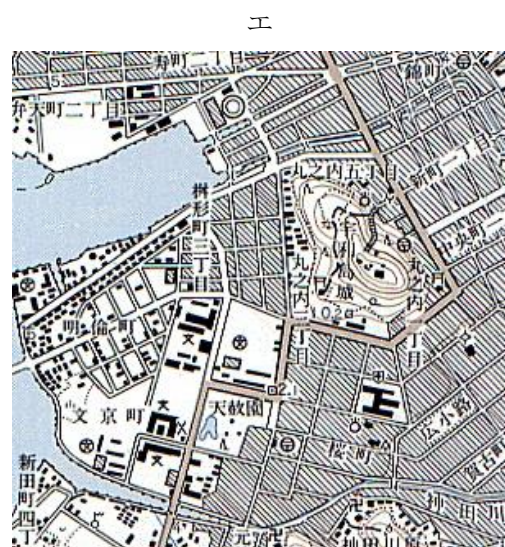
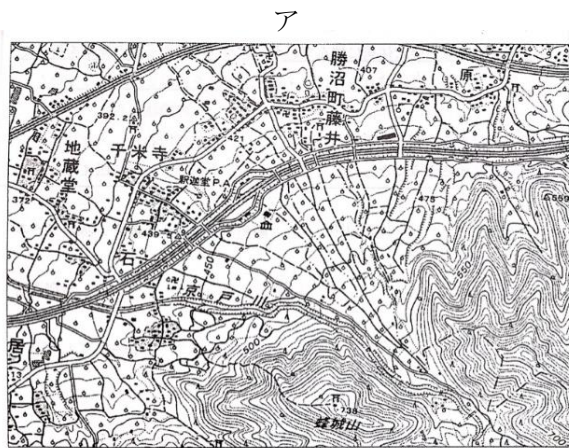
問6 下線部⑥について、三重県志摩市がスペインのサポート担当になった理由は、市内にスペインをモチーフとしたテーマパークが設置されているからです。あてはまるテーマパークを、つぎのア～エからひとつ選び、記号で答えなさい。

- ア ナガシマスパーランド イ パルケエスパーニャ
ウ ユニバーサル・スタジオ・ジャパン エ ディズニーリゾート

問7 下線部⑦について、真珠の養殖に適した地形を、つぎのア～エからひとつ選び、記号で答えなさい。

- ア 砂浜海岸 イ 岩石海岸 ウ リアス海岸 エ さんご礁海岸

問8 表中の下線部⑧について、温泉がよく出る地形を、つぎのア～エの地形図からひとつ選び、記号で答えなさい。



問9 神奈川県と千葉県の間には、東京湾をまたいで高速道路がつくられています。その高速道路の途中には表中の「海（あ）」という、夜に海中で光る生物の名前が愛称として使われています。

（あ）にあてはまる語句を、つぎのア～エからひとつ選び、記号で答えなさい。

- ア ほたる イ くらげ ウ へび エ ぼうず

問10 表中の（い）にあてはまる語句を、つぎのア～エからひとつ選び、記号で答えなさい。

- ア めがね イ テレビ ウ パソコン エ 自動車

問11 愛媛県松山市では表中の「（う）」を観光のPRに利用しようとしています。たとえば、市内の一部では「（う）列車」という図のような列車を運行しています。夏目漱石の代表作である『（う）』にあてはまる語句を、つぎのア～エからひとつ選び、記号で答えなさい。

- ア 坊ちゃん イ 羅生門
ウ たけくらべ エ 一握の砂




3 福井市の博物館では、つぎのような「貨幣の歴史」という展示がありました。展示されていた、つぎの資料を見て、あとの問いに答えなさい。

6	7	8	9	13	14	15	16	17	18	19	20	(世紀)
古代			中世				近世		近代		現代	

富本銭

①天武天皇の時代に
鑄造された日本で最
古の銅銭です。どれ
ぐらい広く貨幣とし
て流通していたかは
わかりません。



**明銭
(永楽通宝)**


中世は定期市が開か
れるようになり、宋
銭や明銭が取引で使
用されることが多く
なりました。



**天保小判
万延小判**

③外国との自由
な貿易が始まり
ました。

金が国外へ大
量流出し、④生
活に行き詰まる
民衆が増えまし
た。




円・銭・厘

解説



和同開珎


発行されたころの日
本では、②唐になら
って律令や政治の中
心となる都が造られ
ました。和同開珎も
唐にならったもので
す。



銀貨

⑤鉱山開発と技
術の改良により
金銀の生産量が
急増しました。

産出された銀は
世界で流通しま
した。



問1 下線部①が兵を挙げた、天智天皇の跡継ぎをめぐる戦いを何というか答えなさい。

問2 下線部②について、あとの問いに答えなさい。

(1) つぎの表は、^{やましろのくにおたぎぐんいずもごうしもり}山背国愛宕郡出雲郷下里という地の計帳をもとに作成したものです。表中の人物の性別や年齢から、班田収授法により口分田が与えられることになるのは何人が答えなさい。

性別	男	女	男	男	女	女
年齢	34	62	8	4	6	37

(2) つぎの文中の(あ)～(う)にあてはまる語句の組み合わせとして正しいものを、つぎのア～エからひとつ選び、記号で答えなさい。

口分田を受給した者は、その面積に応じて(あ)を負担しなければならなかった。その他、良民の成人男子には労役の代わりに布を納める(い)などの税が課せられた。さらに彼らには、兵役の義務もあり、兵士になった人の中には、日本を唐や新羅から守るために(う)として九州北部に送られる者もいた。

- ア あー租 いー庸 うー雑徭 イ あー租 いー庸 うー防人
ウ あー庸 いー租 うー雑徭 エ あー庸 いー租 うー防人

問3 下線部③について、日本は5か国と通商条約を結んで開国しました。その5か国を、つぎのうちからすべて選び答えなさい。

- アメリカ イギリス イタリア オランダ 中国
朝鮮 ドイツ フランス ロシア

問4 下線部④の原因を、つぎのように考えました。文中の、あ()～う()内から、正しい語句を選び答えなさい。

小判に含まれる金の量を あ(増や ・ 減ら)して小判の価値を い(上げ ・ 下げ)たことで、米や生活必需品が う(値上がり ・ 値下がり)したため。

問5 下線部⑤について、あとの問いに答えなさい。

- (1) この頃が開発され、現在、世界文化遺産にも登録されている、島根県にある鉱山を何というか答えなさい。
(2) ポルトガル人との貿易で、日本からは主に銀を輸出しました。ポルトガル人は、当時の日本では何と呼ばれていたか、漢字3文字で答えなさい。

問6 つぎの文は、解説の枠内に入るものです。【 】にあてはまる文を考えて答えなさい。解答の際は、「どのような人」が「何」で納めたかを明らかにして答えなさい。

政府は1871年に統一的な貨幣制度を設けました。近代産業の育成を目指して、殖産興業政策を進めていましたが、貨幣制度もその政策のひとつです。1873年から実施された税制度改革である地租改正では、地租の3%を【 】ことになりました。

4 紙幣の肖像画になった人物について、【A】～【C】の紹介を読み、あとの問いに答えなさい。



【A】 聖徳太子

彼は推古天皇の摂政となり、①冠位十二階、十七条の憲法、遣隋使の派遣といった新たな国づくりのために様々な準備をおこないました。

彼が仏教を広めるために建てたとされる寺院が日本各地にあり、②奈良県斑鳩町にあるものは現存する世界最古の木造建築といわれています。

問1 下線部①について、あとの問いに答えなさい。

(1) 「冠位十二階」、「十七条の憲法」、「遣隋使の派遣」はどのような目的で行われましたか。説明文として正しいものを、つぎのア～エからそれぞれひとつ選び、記号で答えなさい。

- ア 天皇への服従など、役人や貴族への心構えを示すため。
- イ 隋に朝貢し、君主関係を築こうとしたため。
- ウ 中国の制度や技術、文化を学ぶため。
- エ 家柄ではなく、有能な人物を役人に取り立てるため。

(2) これらの政策によって、聖徳太子はどのような政治制度を整えようとしたか。「天皇」という語句を必ず使用して、簡単に説明しなさい。

問2 下線部②について、この建造物を何というか答えなさい。



【B】 夏目漱石

彼は、近代日本を代表する小説家です。元々は教職に就き、英語の講師をしていました。文部省に命じられ、2年間のイギリス留学を経験しています。

40歳の時に一切の教職をやめて朝日新聞社に入社し、③小説家として活動することになりました。仕事の合間に木曜会という会を開き、そこには彼を慕う若手文学者が集まり、その中には（ ）の姿もありました。

問3 下線部③について、この人物の残した代表的な作品として誤っているものをア～エからひとつ選び、記号で答えなさい。

- ア 『こころ』
- イ 『舞姫』
- ウ 『^{ロンドンとう}倫敦塔』
- エ 『^{わがはい}吾輩は猫である』

問4 ()には、『^{らしようもん}羅生門』や『^{くも}蜘蛛の糸』などのすぐれた文学作品を残した人物が入ります。その人物名を答えなさい。



【C】 伊藤博文

彼は、山口県（長州）出身の政治家です。④岩倉使節団にも参加しました。憲法制定の準備を進め、欧米で憲法について学び、特にドイツ（プロイセン）憲法を参考にしました。渡欧の際には、ドイツの首相（ ）と会談しました。そして、内閣制度を創設して、初代首相に就任し、1889年には草案作成にかかわった⑤大日本帝国憲法が發布されました。その後、何度か内閣を組織し、初代の韓国統監にもなりましたが、ハルビンで暗殺されました。

問5 下線部④について、この使節団の当初の目的は何か答えなさい。

問6 ()には、「鉄血宰相」と呼ばれ、たくみな外交術を駆使してドイツ統一を実現した人物が入ります。その人物名を答えなさい。

問7 下線部⑤について述べた、つぎの文中の（あ）～（う）にあてはまる語句の組み合わせとして正しいものを、つぎのア～エからひとつ選び、記号で答えなさい。

天皇を国家元首とし、天皇が定めたという形で制定された（あ）憲法です。天皇は（い）で、その尊厳や名誉を侵してはならない存在とあります。また、国民は「臣民」とされ、議会で定める（う）の範囲内で言論、出版、集会、結社、信仰の自由などの権利が認められました。

- ア あー欽定 いー象徴 うー法律 イ あー欽定 いー神聖 うー法律
ウ あー民定 いー象徴 うー基本的人権 エ あー民定 いー神聖 うー基本的人権

問8 2024年にお札の肖像画の人物が変更される予定です。新しい千円札に印刷される絵柄について、つぎの問いに答えなさい。

(1) 新しい千円札に印刷される人物は、破傷風の血清療法の確立などで日本の医学・細菌学に貢献しました。この人物とは誰ですか。つぎのア～エからひとつ選び、記号で答えなさい。

- ア 北里柴三郎 イ 志賀潔 ウ 高峰譲吉 エ 野口英世

(2) 新しい千円札の裏に印刷される予定の、つぎの絵は誰の作品か答えなさい。



5 つぎの、先生と生徒の会話を読んで、あとの問に答えなさい。

先生：今日から①人権について学習を進めていきましょう。

その中でも、男女平等を最初のテーマにしたいと思います。

生徒：先生、現在の日本では仕事や職場において男女②差別はあるのでしょうか。

先生：残念ながらあります。③女性は男性よりも不利に扱われることが多くあります。

生徒：そうなのですね。なぜそのような考えになるのですか。

先生：その背景としては、④「男性は仕事、女性は家事と育児」という固定した考えがあるからといわれています。

生徒：この問題は解決に向けて動いているのでしょうか。

先生：ええ、1985年には（あ）が制定され、1999年には（い）が制定されました。

生徒：なるほど。法律にすることで男女平等は少しずつ進んでいるのですね。

問1 文中の（あ）、（い）にあてはまる語句を、それぞれ答えなさい。

問2 下線部①について、つぎのA～Dの資料は人権に関わるものです。それぞれの資料は何とよばれるものですか。組み合わせとして正しいものを、ア～エからひとつ選び、記号で答えなさい。

A

議会の同意なしに、国王の権限によって法律とその効力を停止することは違法である。

B

人は生まれながらに、自由で平等な権利を持つ。社会的な区別は、ただ公共の利益に関係のある場合にしか設けられてはならない。

C

いかなる自由民も、正当な裁判または国の法律によらなければ、逮捕や監禁をされたり、(中略)その他の方法によって権利を侵害されたりすることはない。

D

人間はみな平等に創られ、ゆずりわたすことのできない権利を神によってあたえられていること、その中には、生命、自由、幸福の追求がふくまれていること、である。

- ア A 権利の章典 B フランス人権宣言 C マグナ・カルタ D アメリカ独立宣言
イ A フランス人権宣言 B マグナ・カルタ C アメリカ独立宣言 D 権利の章典
ウ A アメリカ独立宣言 B 権利の章典 C フランス人権宣言 D マグナ・カルタ
エ A マグナ・カルタ B アメリカ独立宣言 C 権利の章典 D フランス人権宣言

問3 下線部②について、つぎの写真は差別を受けてきたアイヌ民族の地名を示す表示板です。この表示板が出されている理由を、「文化」という語句を必ず使用して答えなさい。

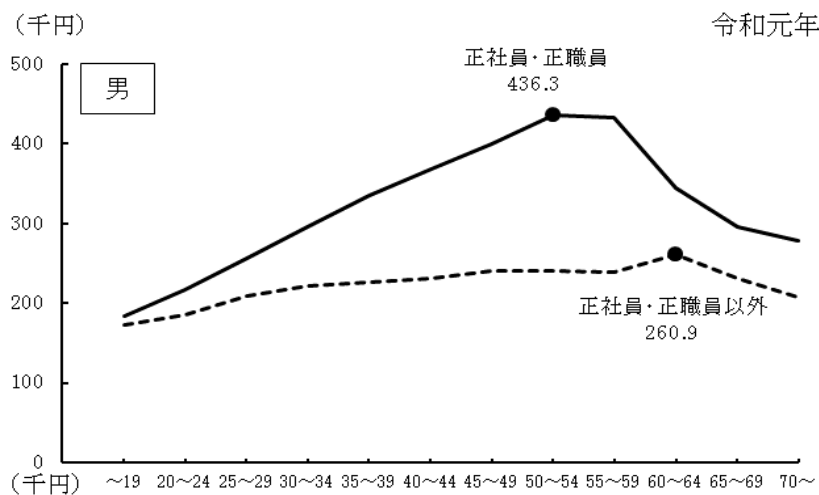


問4 下線部③について、つぎの日本国憲法（第13条・第14条）には、個人の尊重と法の下での平等について書かれています。（a）～（d）にあてはまる用語を答えなさい。

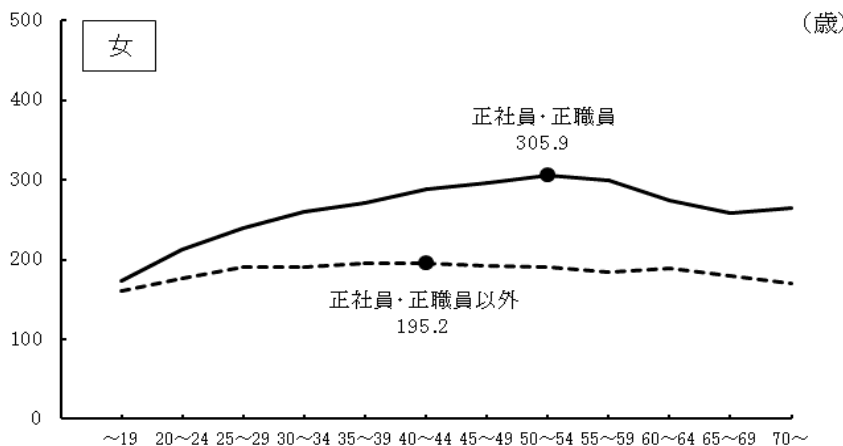
第13条
 すべて国民は、個人として尊重される。生命、自由及び（ a ）追求に対する国民の権利については、（ b ）に反しない限り、立法その他の国政の上で、最大の尊重を必要とする。

第14条
 すべて国民は、法の下に平等であって、人種、（ c ）、性別、社会的身分又は門地により、政治的、（ d ）的又は社会的関係において、差別されない。

問5 下線部④について、つぎのグラフは、正社員と正社員以外の年齢別賃金をあらわしています。このグラフから読み取れることを、「男性」と「女性」という語句を必ず使用して説明しなさい。



(注)
 グラフ中の●は賃金の最高値を示しています。



6 さくらさんは、ある年の国会の一年をまとめました。さくらさんがまとめた表を見て、あとの問いに答えなさい。

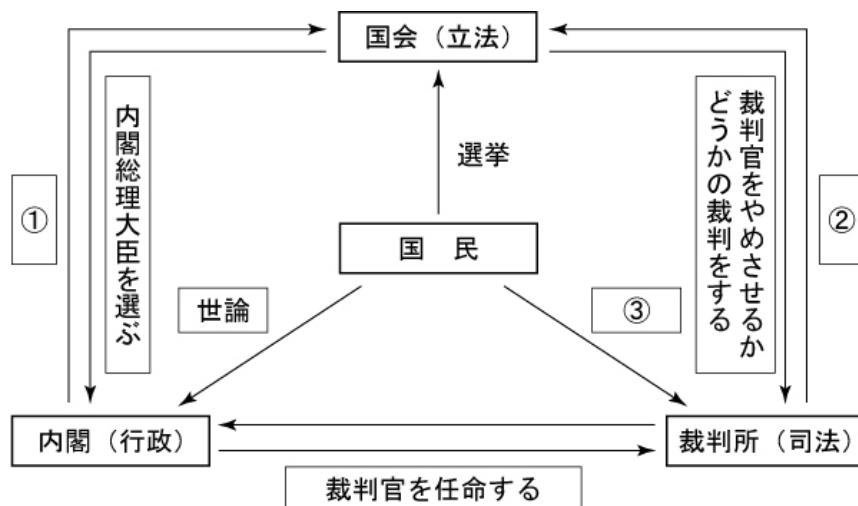
国会の一年	
1月	常会の召集
2月	予算の審議
3月	法案等の審議
6月	衆議院の調査会による報告書提出
9月	臨時会の召集
10月	代表質問
11月	決算の国会報告
12月	臨時会の会期終了

問1 国会の会期について、つぎの表の(あ)～(う)にあてはまる数字の組み合わせとして正しいものを、つぎのア～エからひとつ選び、記号で答えなさい。

会期	召集	日数
常会	毎年1回、1月中に召集される	(あ)日
臨時会	いずれかの議院の総議員の(い)以上の要求があった場合に召集される	両院の議決の一致による
特別会	衆議院解散後の総選挙の日から(う)日以内に召集される	

- ア あ-150 い-3/4 う-10 イ あ-150 い-1/4 う-30
 ウ あ-50 い-3/4 う-10 エ あ-50 い-1/4 う-30

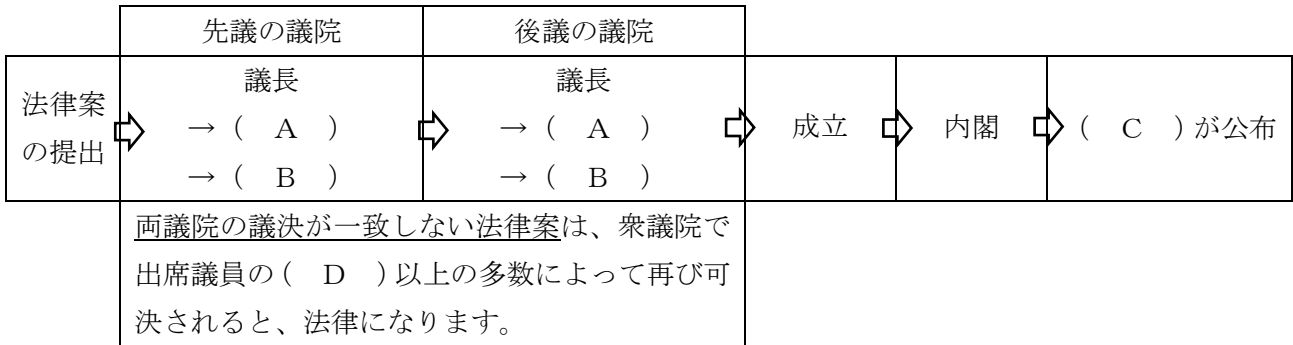
問2 つぎの図は、三権分立の仕組みをあらわしたものです。図中の①～③にあてはまる語句の組み合わせとして正しいものを、つぎのア～エからひとつ選び、記号で答えなさい。



- ア ①法律の違憲審査 ②国会の召集の決定 ③国民投票
 イ ①衆議院の解散の決定 ②法律の違憲審査 ③国民投票
 ウ ①国会の召集の決定 ②法律の違憲審査 ③国民審査
 エ ①衆議院の解散の決定 ②国会の召集の決定 ③国民審査

問3 2月の予算の審議について、両議院の議決が一致しない場合は、衆議院の議決が優先されます。その理由を答えなさい。

問4 3月の法案等の審議について、つぎの図は法律ができるまでの過程をあらわしたものです。図中の(A)～(D)にあてはまる語句をそれぞれ答えなさい。また、下線部の状況はしばしば起こるものですが、衆議院の与党が過半数の議席を持ちながら、参議院では野党が過半数の議席を持っている状態を何というか答えなさい。



問5 9月の臨時会の召集について、臨時会では国の予算について話し合われることがあります。国の予算から地方公共団体に配分される地方財源を何というか、ふたつ答えなさい。

問6 国会では消費者を守るための法律が頻繁に審議されています。つぎの表は、消費者に関する法律をまとめたものです。それぞれの法律の内容の組み合わせとして正しいものを、ア～エからひとつ選び、記号で答えなさい。また、 線部の法律の別名を何というか答えなさい。

制定された年	法律
1968年	消費者保護基本法・・・①
1994年	<u>製造物責任法</u> ・・・②
2000年	消費者契約法・・・③
2004年	消費者基本法・・・④
2012年	消費者教育推進法・・・⑤

- A 被害者が製造者などに対して損害賠償を求めることができる法律
- B 消費者の権利や自立の支援などの基本理念を定めた法律
- C 消費者が誤認またはとまどった状態で契約を結んだ場合、契約を取り消せる法律

- ア A-② B-③ C-④ イ A-② B-④ C-③
 ウ A-③ B-⑤ C-① エ A-③ B-① C-⑤