

令和5年度  
一般入学試験問題  
社 会

2月2日(木)

注意

- 1 監督の先生から、「始め」のあいずがあるまで開いてはいけません。
- 2 この問題とは別に1枚の解答用紙があります。
- 3 問題用紙と解答用紙両方のきめられた欄に受験番号を記入しなさい。
- 4 机の上には、受験票・鉛筆・シャープペンシル・消しゴム・鉛筆けずり・定規以外のものをおいてはいけません。  
下敷きは、監督の先生の許可を受けてから使用しなさい。
- 5 筆記用具などの貸し借りをしてはいけません。
- 6 問題を読むとき、声を出してはいけません。
- 7 印刷が悪くてわからないときや、筆記用具などを落としたときなどは、だまって手をあげて、監督の先生に知らせなさい。
- 8 監督の先生の「やめ」というあいずがあったら、すぐにやめなさい。

答えの書き方

- 1 問題をよく読んでから答えなさい。答えは、すべて鉛筆またはシャープペンシルで解答用紙に記入しなさい。色鉛筆を使ってはいけません。
- 2 答えは、ていねいに書きなさい。なおすときは、きれいに消してから新しい答えを書きなさい。
- 3 メモには、問題用紙の空白を利用しなさい。

受験番号	
------	--


[1] バドミントン部に所属するヒロコさんは、バドミントンについて調べた。次の資料はまとめたものの一部である。

東京オリンピック 2020 バドミントン競技（男女シングルス、男女ダブルス、混合ダブルス 5 種目） 国・地域別のメダル獲得数	
1 位	中華人民共和国
2 位	a) <u>チャイニーズタイペイ</u> （台湾）
3 位	b) <u>インドネシア</u>
4 位	デンマーク
5 位	c) <u>インド</u>
	日本
	d) <u>マレーシア</u>

資料 1

**シャトル（シャトルコック）について**

- ・羽根の部分がナイロン製のものは、耐久性に優れている。
- ・公式試合などで使用されるのは、水鳥の羽根を使用しているものである。
- ・コックにはコルクが使用されている。



資料 2

問 1 下線部 a) について、台湾はオリンピック参加名義では「チャイニーズタイペイ」という名称となっている。これは、「中国」の歴史の問題が背景にある。そのことに関する次の文章を読み、空欄（ X ）と（ Y ）にあてはまる語句を答えなさい。なお、どちらも漢字で答えなさい。

1932 年 3 月に満州国の建国が宣言され、満州国は日本の関東軍の傀儡<sup>かいらい</sup>国家として成立した。さらに日本は満州国に隣接する中国北部へ侵入した。中国では（ X ）党と（ Y ）党の間で内戦が行われていたが、毛沢東が率いる（ X ）党は、内戦停止と民族統一戦線の結成を呼びかけ、2 党は協力し合うことになった。

日本の敗戦後、（ X ）党と（ Y ）党の間で内戦が再発し、（ X ）党が勝利、毛沢東を主席とする中華人民共和国が 1949 年に成立した。一方アメリカが支援した（ Y ）党は台湾に逃れた。

注 傀儡＝他人の思いのままに利用されること。

問 2 下線部 b) について、インドネシアでは、1982 年からバドミントンの国際大会であるインドネシア・オープンが開催されてきた。2022 年の開催都市はジャカルタ市で、混合ダブルス決勝戦は現地時間の 6 月 19 日 12 時 5 分に開始された。デンマーク・コペンハーゲン市に住む Kamilla さんは、この試合を中継配信でリアルタイム観戦した。この試合が開始された時、Kamilla さんの住む町では何月何日の何時何分だったかを下記の内容をふまえて答えなさい。

- ・ジャカルタ市の時刻は東京よりも 2 時間遅れている。
  - ・コペンハーゲン市の標準時子午線は東経 15 度である。
  - ・サマータイムは考慮しない。

問 3 下線部 c) について、インドはバドミントン競技人口が多いため、日本のあるスポーツ用品の企業はインドへの市場拡大を進めている。日本からインドへ進出しようとする企業があると仮定し、その企業がインド進出をするうえでの配慮事項をまとめた。内容として適当でないものをア～エから1つ選び、記号で答えなさい。

ア インドは、ヒन्दゥー教徒が全人口の約8割を占めている。

イ インドは一時期人口抑制政策を行っていたため、若年層が極端に少ない。

ウ インドには地域によって異なる多くの言語があるが、共通語として英語が使用されている。

エ ICT産業が急速に発達し、インドの経済成長をひっぱり重要な産業となっている。

問 4 下線部 d) について、2005年にマレーシアのクアラルンプールに世界バドミントン連盟の本部が移された。バドミントンが誕生した頃はヨーロッパのアジア支配が行われており、ヨーロッパ優位の時代であったが、現在はグローバル化する世界の中でアジアの存在感が大きくなっているからである。次の関連する(1)、(2)の問いに答えなさい。

(1) マレーシアは東南アジア諸国と経済や政治、軍事、安全保障などで連携しながら、着実に経済や社会を成長させている。マレーシアが加盟している東南アジア諸国による組織をアルファベット5文字で答えなさい。

(2) ヒロコさんは、父の勤務先の会社が経済発展進むマレーシアと隣国でマレーシアから独立したシンガポールへ支社を作る計画が出たことを聞き、シンガポールのことを調べようと思った。そして、右図の漫画を見つけた。漫画では日本とシンガポールで主人公がどちらも寒がっている様子をあらわしているが、そもそも、その前提条件が全く違うことがある。それほどんな点か簡単に説明しなさい。

(図)

出典 エバンジェリン・ネオ『Kopi & Matcha』より

[2] しんご君は、北陸新幹線のルートと沿線の府県について調べた。下の略図としんご君が調べた内容を見て、あとの問いに答えなさい。

(略図)

《北陸新幹線延伸の候補となったルートの詳細データ 敦賀～新大阪間》

ルート	主な通過駅	建設延長距離	建設費	運賃・料金	所要時間
米原	米原駅、京都駅	約 50 km	約 5900 億円	6560 円	約 1 時間 7 分
小浜京都	小浜市付近、京都駅	約 140 km	約 2 兆 700 億円	5380 円	約 43 分
小浜舞鶴	舞鶴市付近、京都駅	約 190 km	約 2 兆 5000 億円	6460 円	約 1 時間

出典：2016/11/29 『産経 WEST』 一部編集

《沿線の府県の特徴》

長野	飛騨山脈、木曾山脈、赤石山脈には 3000m 級の山々 冷涼な気候を利用した (①)
新潟	穀物である (②) の生産量日本一 (③) 四大公害病の 1 つである新潟水俣病 (第二水俣病)
富山	川の上流に造られた黒部ダム 古くから伝わる売薬
石川	県庁所在地の (④) 金沢は 2022 年現在北陸新幹線の終着駅 輪島塗
福井	(⑤) 奥行きのある湾と岬が連続する若狭湾 (⑥) 美浜原発
滋賀	日本最大の湖である (⑦) 琵琶湖
京都	古都 (⑧) 古代からの文化を引き継ぐ寺社・西陣織
大阪	江戸時代頃から発達した商業都市で、当時は (⑨) と呼ばれた

問 1 (①) にあてはまる語句をア～エから選び、記号で答えなさい。

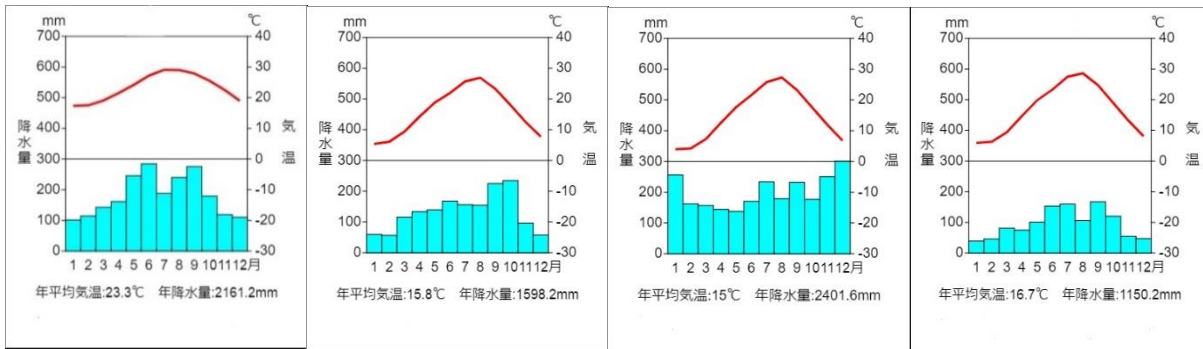
ア 促成栽培 イ 近郊農業 ウ 施設園芸農業 エ 高冷地農業

問 2 (②) にあてはまる農作物を答えなさい。

問 3 下線部③について、四大公害病の 1 つとして 適当でないもの をア～エから選び、記号で答えなさい。

ア 水俣病 イ イタイイタイ病 ウ 四日市ぜんそく エ 足尾鉍毒

問4 下線部④について、金沢の雨温図をア～エから選び、記号で答えなさい。



ア

イ

ウ

エ

問5 下線部⑤について、このように河川によって削られた入り組んだ海岸を何というか、答えなさい。

<グラフ>

出典：一般社団法人日本原子力産業協会「日本の原子力発電所の運転実績」

問6 下線部⑥について、上のグラフは日本の原子力発電所の設備利用率※を示したものである。

このグラフから読み取った内容として最も適当なものを1つ選び、記号で答えなさい。

※設備利用率～発電設備がその期間中に実際に発電した電力量の割合。

ア 1982年以來、設備利用率が85%を上回った年は1年しかない。

イ 原油価格が下落し、火力発電の利用率が高まったため、1990年代の設備利用率は徐々に低下した。

ウ 2001年から2003年の利用率が低下したのは、オイルショックによるものである。

エ 東日本大震災による原子力発電所の事故の影響で、2010～2012年にかけて利用率が低下した。

問7 下線部⑦について、琵琶湖についての文を読み、( )にあてはまる語句を答えなさい。

琵琶湖は、日本のほぼ中央に位置するわが国最大の淡水湖で、毎年多くの鳥類が飛来しており、渡り鳥の越冬地ともなっています。またヨシ群落保全条例により、水鳥にとっても重要な、ヨシ群落の保全が図られています。

( ) 条約湿地を指定するための国際的な基準の一つに、「定期的に2万羽以上の水鳥を支える湿地」という基準があり、琵琶湖はその基準を満たしていることから、滋賀県は平成5年(1993年)3月、琵琶湖が( ) 条約湿地となるよう国に申し入れを行いました。

問 8 下線部⑧について、京都にある寺社として適当でないものをア～エから選び、記号で答えなさい。

ア 清水寺    イ 東大寺    ウ 東寺    エ 北野天満宮

問 9 (⑨) にあてはまる語句をア～エから選び、記号で答えなさい。

ア 天下の台所    イ 将軍のお膝元    ウ 水の都    エ 日本のデンマーク

問 10 北陸新幹線の延伸ルートは候補の中から小浜京都ルートに決定している。小浜京都ルートが選ばれた理由として適当でないものをア～ウから選び、記号で答えなさい。

- ア 3つのルートの中で建設費が最も安いから。
- イ 3つのルートの中で所要時間が最も短いから。
- ウ 3つのルートの中で運賃・料金が最も安いから。

[3]下の表1は日本と外国の交流をまとめた年表である。これについてあとの問いに答えなさい。

年号	出来事
(I)	
239	① 邪馬台国の( X )が魏に使いを送る
478	倭王武が中国の南朝に使いを送る
607	② 推古天皇が小野妹子を隋に送る
630	日本が第一回遣唐使を送る
(II)	
894	③ 遣唐使が廃止される
(III)	
1274	④ モンゴルの襲来(文永の役)
1404	⑤ 日明貿易が始まる
1543	⑥ ポルトガル人が鉄砲を伝える
1549	フランシスコ・ザビエルによりキリスト教が伝来する
(IV)	
1592	豊臣秀吉が朝鮮侵略を始める

表1

問 1 出来事①について、表1中の( X )にあてはまる人物を、答えなさい。

問 2 出来事②について、この時の摂政だった人物について説明した文として適当なものをア～エから選び、記号で答えなさい。

- ア 家柄にとらわれず、才能や功績のある人物を役人に取り立てるための制度をつくった。
- イ 西アジアやインドから中国を経て、日本に持ち込まれたとされるこの人物の遺品が正倉院に納められている。
- ウ 自分の娘を天皇のきさきにして、その子を次の天皇に立てることで勢力をのばした。
- エ 蘇我蝦夷・入鹿親子を中臣鎌足と協力して倒し、「大化の改新」と呼ばれる改革を行った。

問3 出来事③について、遣唐使の停止に関する下の資料からわかることとして正しいものをア～エから選び、記号で答えなさい。

資料

諸公卿<sup>くぎょう</sup>1)に遣唐使を存続するか廃止するかを議論させることを申請する書状

上の事柄について申し上げます。唐にいる僧が昨年三月に商人に託して送ってきた記録によると、唐の国力が衰退している様子が詳しく記載されていました。(中略)過去の記録を調べてみますと、遣唐使のなかには渡航して任務を果たすことができなかつた者や賊に襲われて身を亡ぼす者はおりましたが、唐に到着して旅行の困難や飢えや寒さに苦しむ者はいませんでした。僧の報告の通りとするならば、これから遣唐使にどのような危険が生じるかもしれません。どうか、僧の記録を公卿たちに渡し、遣唐使を派遣するかどうかを決定するようお願いいたします。国家の大事であるから申しているのであつて、私個人の身の安全のために申しているわけではありません。以上、謹んで申し上げます。 寛平六年<sup>2)</sup>九月十四日 大使(略)菅原朝臣<sup>あそん</sup>

某<sup>なにがし</sup>

(表現は一部修正している)

- ア 唐にいる商人が日本に帰つた僧を通じて唐の様子を伝えたことがわかる。
- イ 過去の遣唐使では道中は危険だが、唐に到着さえすれば安全だつたことがわかる。
- ウ 遣唐使の派遣が停止され、以降も遣唐使を派遣しないと決定したことがわかる。
- エ この書状の送り主は当時の遣唐使の大使であり、後の関白になる人物であることがわかる。

問4 出来事④について、次の図1、図2を説明した文(a)～(d)について、正しい組合せをア～エから選び、記号で答えなさい。

(図1)

(図2)

- (a)図1は、「てつほう」を使用する元軍に立ち向かっている武士の姿が描かれている。
  - (b)図1は、元軍の兵士との一騎打ちに応じた武士の奮戦が描かれている。
  - (c)図2は、元軍との戦いに参戦する御家人を幕府の役人が京でねぎらう場面が描かれている。
  - (d)図2は、元軍の撃退に貢献した御家人が幕府に恩賞を求めている場面が描かれている。
- ア (a)と(c) イ (a)と(d) ウ (b)と(c) エ (b)と(d)

問5 出来事⑤について、倭寇ではなく正式な貿易船であることを確認するためにつくられた証明書を使用した。この貿易を何というか、答えなさい。

問6 出来事⑥について、鉄砲がはじめて伝来した場所として適当なものを図3のア～エから選び、記号で答えなさい。

問7 次の文はそれぞれ表1中 (I)～(IV) のいずれかに入る。(III)に入るものをア～エから選び、記号で答えなさい。

ア 藤原道長の甥が中国東北部から九州に襲来してきた女真族を撃退した。

イ 戦国大名である大村純忠らが派遣した少年使節がローマ教皇に謁見した。

ウ 征夷大將軍として任命された坂上田村麻呂が蝦夷のアテルイを捕虜にした。

エ 奴国王が後漢の皇帝から「漢委奴国王」と書かれた金印紫綬を授けられた。

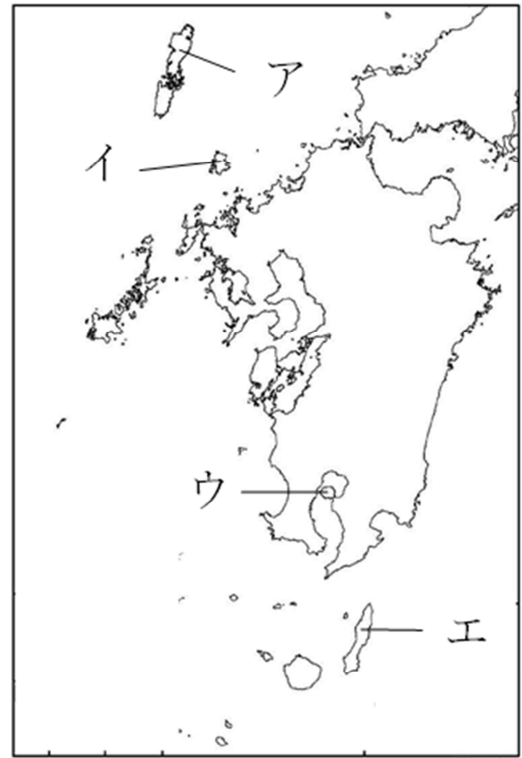


図3

問8 次の文ア～エは、クラスで表1をもとに話し合われた際の発言である。表1から読みとった内容とその内容にもとづいた考察として適当でないものをア～エから選び、記号で答えなさい。

ア 「日本は3世紀から中国や朝鮮半島の国との交流を行っていたんだね。大陸との交流はいつから始まったんだろうか、たとえば日本と元との貿易を行っていたとされる新安沈船の積み荷と同じ時期に中国で使用していたとされるものを比べればわかるかな。」

イ 「日本は古くから周りの国と交流して、文化をとり入れてきたんだね。今の私たちに身近なものでその名残りはあるのかな、かな文字は漢字がもとになったというのは授業で学んだけど、言葉にも関係はないかな、韓国語と日本語で似ている単語がないか調べてみようよ。」

ウ 「日本は国内だけじゃなくて、外国にも出兵して戦いをしていたんだね。教科書に載っている戦い以外にもあったのかな、日本の歴史書と対戦国の歴史書を照らし合わせたら戦いが本当にあった、っていう証明にもなると思うんだ。」

エ 「日本はヨーロッパ出身の人との交流があったんだね。中国の文化は日本の政治や文化に大きな影響を与えたけど、ヨーロッパ出身の人との交流は日本を変えたのかな、南蛮人が来航する前と後で日本の政治や文化に変化があったかどうかを調べればわかるよね。」



[4] 次のポスターは、19世紀以降の人間の「乗り物」の歴史をまとめたものである。

ポスター

問1 下線部 a) について、次の設問に答えなさい。

- (1) 1855年に薩摩藩が「雲行丸」を完成させたのが日本の最初の蒸気船である。この船を建造している頃は鎖国体制がとられていたが、薩摩藩は蒸気船を造るための技術をどのように学んだのか、解答欄に合わせて答えなさい。
- (2) 日本の造船技術は、日露戦争後には世界の最高水準にまで成長した。図1はこの発展に大きく貢献した八幡製鉄所(1901年操業開始)である。①次の資料を参考に製鉄所の立地の特徴について説明しなさい。また、八幡製鉄所は「大冶鉄山」と鉄鉱石を購入する契約を結んだ。②なぜこの鉱山を購入先として選んだのか、立地に注目して説明しなさい。なお、地図上の◎が製鉄所の位置をあらわしている。

<地図・写真>

問2 下線部 b) について、ガソリンエンジン自動車は様々な進化をとげ、現在でも人々に使用されている乗り物である。自動車の生産はどのような工程で製造されるか、ア～オを順番に並べて、解答欄の空いている部分を答えなさい。(※一部は既に解答欄に記載)

(写真)

(出典：トヨタ  
まなぶパーク)

問3 下線部 c) について、ライト兄弟が有人飛行を成功させる以前から、航空機は多くの人々によって構想されてきた。図2を描いた人物も図3のような航空機の構想スケッチを残している。この人物は誰か答えなさい。

図2

図3

問4 下線部 d) について、スプートニク1号の打ち上げは、第二次世界大戦後にアメリカとソ連が中心となった2つの陣営が対立する中で行われた出来事である。下の表は2つの陣営の特徴をまとめたものである。( ) にあてはまる語句を答えなさい。

陣営	中心国	経済体制	軍事同盟
西	アメリカ合衆国	( ① ) 主義経済	( ② ) (1949年結成)
東	ソビエト社会主義共和国連邦	( ③ ) 主義経済 ソ連は(③)主義の最終段階である共産主義の社会・経済への移行を計画した。	( ④ ) (1955年結成)

問5 下線部 e) について、東海道新幹線の開通と同年に日本では国際的なイベントが開催された。東海道新幹線はそのイベントの象徴ともなった。このイベント名を開催都市名を含めて答えなさい。

問6 下線部 f) について、リニア中央新幹線事業を進めるために、JR東海は数年かけてリニア開発事業が環境に与える影響を調べていた。このような環境影響について事前に調査し、評価を行う手続きのことを何というか、あてはまる語句をカタカナをふくむ語で答えなさい。

[5] 次のI・IIの問いに答えなさい。

I 次の会話は、あきらさんとさくらさんが2022年に起きた出来事について話し合ったものである。これを読んで、あとの問いに答えなさい。

あきら：2022年は色々な出来事があったね。

さくら：そうだね。あきら君にとって特に印象に残った出来事はどのようなものがあったかな。

あきら：いくつかあるけど、世界に目を向けると、1月に発生した a) トンガでの海底火山噴火 や、2月から始められた b) ロシアによるウクライナへの軍事侵攻 が印象に残っているよ。

さくら：そうだね。私もそれは頭に浮かんだよ。さらに私的には、9月に c) イギリスのエリザ

ス女王が亡くなったことには、突然だったのでとても驚いたよ。日本では、5月に沖縄復帰50年を迎えたことや、7月にd)参議院選挙が実施されたことが印象に残ったかな。

あきら：確かに、ニュースや新聞で大きく報道されていたよね。そう言えば、僕のお父さんも選挙の投票へ行ったと言っていたよ。僕は国政選挙の仕組みやルールについてよく分かっていなかったの、自分で調べて【メモ】に残したよ。

【メモ】

- ・選挙権…日本国民で満(A)歳以上の者
- ・被選挙権…衆議院議員は日本国民で満(B)歳以上の者  
参議院議員は日本国民で満(C)歳以上の者
- ・期日前投票…仕事などで選挙当日に投票に行けない人は、期日前に投票可能
- ・選挙運動…インターネットを使った選挙運動が可能

問1 下線部 a) について、日本でも毎年のように自然災害が発生している。そこである目的として「自助・共助・公助」の考え方が生まれたが、何を目的としているのか漢字2文字で答えなさい。

問2 下線部 b) について、ウクライナではロシアによる戦争で人権侵害が報告されている。人権保障に向けて1948年に採択されたものとして適切な説明文をア～エから選び、記号で答えなさい。

ア 以前採択された宣言を条約化し、法的拘束力を持たせたものです。

イ 人種や宗教などのちがいをこえて、人類普遍の価値として人権を認めた宣言です。

ウ 子どもが持っている権利と、その保護について定められています。

エ 日本では新たに男女雇用機会均等法が制定され、男女平等教育の推進などが行われました。

問3 下線部 c) について、右の紙幣はオーストラリアのもので、なぜ他国の女王が描かれているのか下の( X )に適切な語句を答えなさい。



「オーストラリアは( X )に属しているからである」

問4 下線部 d) について、【メモ】を見て、(A)～(C)に入る適切な数値の組み合わせをア～エから選び、記号で答えなさい。

ア (A) 25 (B) 30 (C) 18

イ (A) 25 (B) 18 (C) 30

ウ (A) 18 (B) 25 (C) 30

エ (A) 18 (B) 30 (C) 25

II 以下の問いを、答えなさい。

問5 右の図を参考にして、(A)～(C)にあてはまる語句を答えなさい。

株主には、(A)に出席して議決に参加する権利や、利潤の一部を(B)として受け取る権利が保障されています。また、株主には、株式会社が倒産しても、

(図)

投資した金額以上を負担しなくてよいという (C)  
が認められています。

出典：税理士法人チェスター

- 問6 右のグラフをみて、1ドル=100円を  
軸にして考えると、為替相場として正  
しいものをア～エから選び、記号で答  
えなさい。

グラフ

出典：朝日新聞デジタル

- ア 1999年～2005年は円安/2009年～2012年は円安
- イ 1999年～2005年は円高/2009年～2012年は円高
- ウ 1999年～2005年は円安/2009年～2012年は円高
- エ 1999年～2005年は円高/2009年～2012年は円安

- 問7 次の表は、男女別の正規雇用者と非正規雇用者の未婚率をあらわしたものである。この表に  
ついて説明した文として適当でないものをア～エから選び、記号で答えなさい。

表

出典：東洋経済 ONLINE

- ア 20～24歳は、男女共に未婚率は90%を超えている
- イ 30～34歳は、男女共に正規雇用者の未婚率が大幅に低下している
- ウ 生涯未婚率は、男性と比べ女性の正規雇用者の方が高い
- エ 生涯未婚率は、女性と比べ男性の正規雇用者の方が高い

- 問8 非正規雇用についての説明で適切なものをア～エからすべて選び、記号で答えなさい。

- ア 人材派遣会社と労働契約を結び、他の企業に派遣されて働く労働者
- イ 短期間（原則3年以内）の労働契約の労働者
- ウ 1週間の所定労働時間が正規の労働者よりも短い労働契約の労働者
- エ 期間の定めのない労働契約の労働者