

# 令和6年度

## 一般入学試験問題

### 社 会

2月2日（金）

#### 注 意

- 1 監督の先生から、「始め」の合図があるまで開いてはいけません。
- 2 この問題とは別に1枚の解答用紙があります。
- 3 問題用紙と解答用紙両方のきめられた欄に受験番号を記入しなさい。
- 4 **解答用紙の受験生シール貼付欄にシールを貼り付けなさい。**
- 5 机の上には、受験票・受験生シール・鉛筆・鉛筆けずり・シャープペンシル・消しゴム・定規以外のものをおいてはいけません。  
下敷きは、監督の先生の許可を受けてから使用しなさい。
- 6 筆記用具などの貸し借りをしてはいけません。
- 7 問題を読むとき、声を出してはいけません。
- 8 印刷が悪くてわからないときや、筆記用具などを落としたときなどは、だまって手をあげて、監督の先生に知らせなさい。
- 9 監督の先生の「止め」という合図があったら、すぐに止めなさい。

#### 答えの書き方

- 1 問題をよく読んでから答えなさい。答えは、すべて鉛筆またはシャープペンシルで解答用紙に記入しなさい。色鉛筆を使ってはいけません。
- 2 答えは、はっきりとていねいに書きなさい。なおすときは、きれいに消してから新しい答えを書きなさい。
- 3 メモには、問題用紙の空白を利用しなさい。

受験番号	
------	--



[1]ミキオさんは映画鑑賞が趣味であることから、「映画の誕生と国ごとの映画の歴史」をテーマに探究活動に取り組んだ。下記の資料は調査してまとめたものの一部である。

#### 映画の誕生

1895年、フランスのリュミエール兄弟によって「シネマトグラフ」というスクリーン映写式の映画装置が開発され、日本では1897年にシネマトグラフによる映画が大阪で上映された。

現在、東京国立近代美術館フィルムセンターに、シネマトグラフで撮影された a) 「明治の日本」と呼ばれる映像作品がある。フランス人のジュレールによる撮影のものとされているが、彼がどのような人物であるか、また、本当に彼が撮影したものであるかは明らかになっていない。

(写真)

シネマトグラフ

#### アメリカ

かつてアメリカ映画産業の中心地はアメリカ東部のニューヨークやシカゴであった。トーマス・エジソンが映画産業に強い支配力を持っており、b) 新しい映画会社はエジソンの支配から逃れるために別の地域へと逃れた。現在その地域がアメリカの映画産業の中心地となり、ハリウッド (Hollywood) と呼ばれている。

#### インド

インドの映画産業の中心地は c) ムンバイ (旧称ボンベイ) であり、ハリウッドにちなんで、インド映画産業は「ボリウッド (Bollywood)」と呼ばれている。

最近わたしが観た「<sup>アールアールアール</sup>R R R」は、2022年10月21日に日本で公開された。2023年2月19日時点で日本国内での累計興行収入は10億円を突破した。日本だけでなく世界的に大ヒットし、第95回アカデミー賞では歌曲賞を受賞した。「R R R」の舞台はイギリス植民地時代のインドで、主人公2人はその時代に実在した革命家をもとにしており、ストーリーには d) インドの<sup>にだいじょじし</sup>二大叙事詩 (注1) の『ラーマーヤナ』と『マハーバーラタ』の要素が取り入れられている。

注1 叙事詩=歴史上の人物や出来事などについてうたった詩。

問1 下線部 a) について、『明治の日本』には右のような活動写真が記録されている。この映像に関して説明した次の文章の空欄に適する語句を、空欄 A はカタカナで、空欄 B は漢字 (写真) で答えなさい。

この映像は、当時の北海道で撮影された ( A ) 民族のものである。2007 年に国連において「( B ) 民族の権利に関する宣言」が採択され、日本では 2019 年に「( A ) の人々の誇りが尊重される社会を実現するための施策の推進に関する法律」が成立した。この法律で、この民族がはじめて北海道の ( B ) 民族と認められた。

問2 下線部 b) について、下の図を見て答えなさい。



(1)新しい映画会社がアメリカ東部から移った理由として、アメリカの気候事情もかかわっている。次の会話文と図のア～エの都市の雨温図をみて、映画会社が移った都市のものとして正しいものを、ア～エから1つ選び記号で答えなさい。

ミキオさん : 映画は、晴れのときだけじゃなくて、雨やくもり、雪と様々な場面があるから、どんなときでも撮影できるようにするのかな。

ショーゴさん : でも、やっぱり俳優さんやカメラなどの撮影道具のことを考えると晴れの日がいいよね。雨の日が少なくて、気温も温暖なところなら撮影もしやすいのではないかな。

(2)西海岸地域には映画産業以外にも多くの企業が集まり、西海岸地域を含めた図の北緯 37 度線より南の地域は、近年では ICT 産業が発達している。この地域を何と呼ぶか答えなさい。

問3 下線部 c) について、ミキオさんはムンバイが映画産業だけでなく、情報通信技術産業 (ICT 産業) でも急速に発展していることに着目した。下の表は、ミキオさんがインドにおける情報通信技術産業の発展理由を調べてまとめたものである。空欄の ( A )・( B ) に該当する内容を答えなさい。

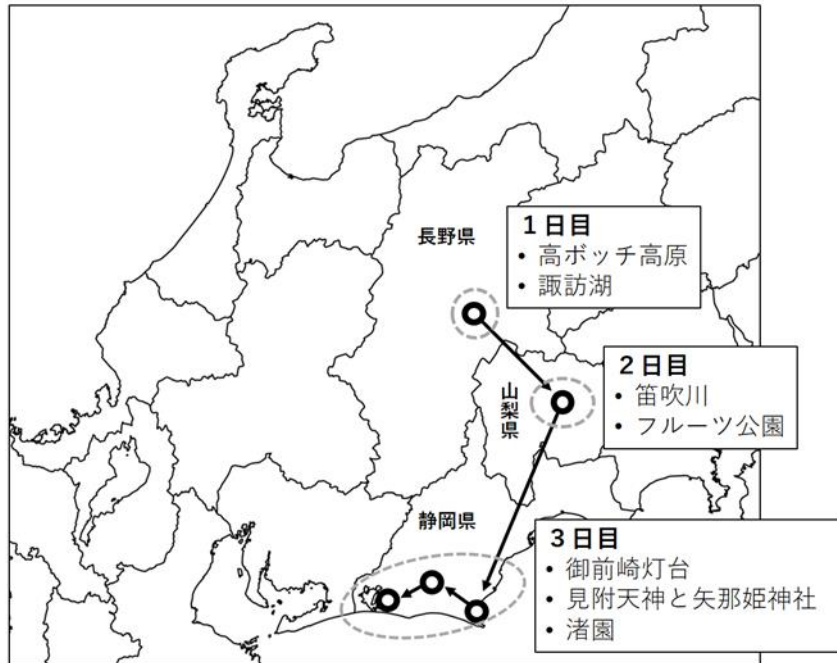
教育に関する理由	インドはもともと数学やコンピューター技術の教育に力を入れていたから。
技術に関する理由	アメリカなどに渡ったソフトウェア開発などの技術者が帰国したから。
言語に関する理由	かつてイギリスの植民地であったこともあり、( A ) が準公用語となっている。
時差に関する理由	アメリカと ( B ) 。
政策に関する理由	政府が多くの都市に工業団地をつくるなど、ICT 産業を支援しているから。

問4 下線部 d) について、この 2 つの叙事詩はインドで大多数を占める宗教の聖典とされている。右の写真はその宗教の信者がガンジス川で沐浴をする様子である。この宗教名を答えなさい。

(写真)

[2]アイさんは、とあるアニメの影響を受けてソロキャンプに挑戦しようとしている。アニメの聖地や SNS などで紹介されている場所をピックアップし、後輩でソロキャンプ経験者のリョーキさんに相談し、行き先を考えている。以下の I と II の問いに答えなさい。

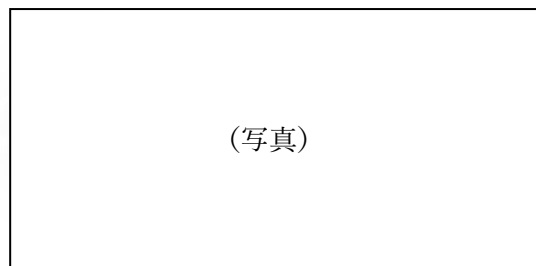
I アイさんはアニメ作品の聖地とされている場所と移動ルートを下の地図に書き込み、その聖地付近の地域について調べてみた。



問1 アイさんは、1日目に訪れる予定の地域について調べてみたところ、諏訪湖周辺では地域の中心産業が戦前から現在に至るまで大きく変わってきたことがわかった。そして調べた内容から以下のようなレポートを作成した。レポートの文章内の空欄 ( A ) ・ ( B ) にあてはまる語句として正しいものを、ア～オから1つずつ選び記号で答えなさい。

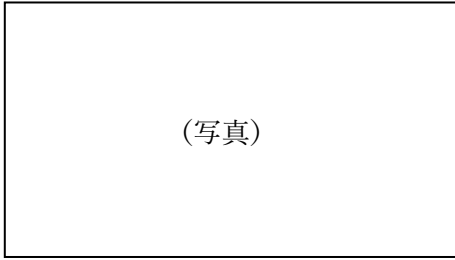
諏訪湖は長野県最大の湖であり、湖を中心に八ヶ岳や霧ヶ峰高原といった豊かな自然環境に囲まれている。また、諏訪湖周辺にある諏訪大社は古くより人々から信仰を集め、江戸時代には神社を中心に門前町や宿場町が作られ、多くの人と物が往来した。

諏訪湖のあたりは信州屈指の工業地域でもある。明治時代から、その豊富な水を使った養蚕と ( A ) 工業が発達した。諏訪の岡谷で誕生した諏訪式の ( A ) 技術が県内外へ普及し、日本の産業革命を支えた。



蚕の幼虫と煮繭釜

第二次世界大戦後には、( A ) 工業に代わって ( B ) 工業が発展した。諏訪は「東洋のスイス」と呼ばれるほどに、豊富な水と高原からの澄んだ大気に恵まれているため、( B ) 工業に適した土地といえる。大戦中に、京浜工業地帯から航空機部品や時計、カメラなどの製造工場が疎開してきたことや、かつて ( A ) 工場 で働いていた人々の存在も、( B ) 工業が発展するきっかけとなった。



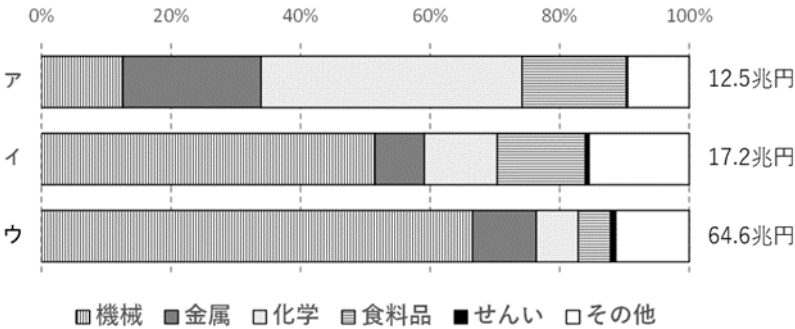
株式会社セイコーの腕時計

ア 化学繊維    イ 自動車    ウ 製糸    エ 製紙    オ 精密機械

問2 アイさんは2日目に訪れる予定の地域について調べたところ、山梨県では桃やすもも、ぶどうなどのフルーツの産地として有名であることを知った。なぜ山梨県ではフルーツの栽培がさかんであるかを考え、アイさんは次のようにまとめた。文章内の空欄 (A)・(B) 内それぞれにある2つの言葉のうち、正しいものを選び答えなさい。

- ・とりわけ果樹の生産が多い甲府盆地は、水はけが (A 良い・悪い) 扇状地が数多く形成されている。
- ・中央高地は標高が高いので、昼夜の気温差が (B 大きい・小さい)。そのため、フルーツの糖度がぐっと上がる。

問3 アイさんは、3日目に訪れる予定の地域は工業地域としてさかえていることに気づいた。次の資料は、京葉工業地域、中京工業地帯、東海工業地域の出荷額の内訳 (2019年) を示したものである。アイさんが3日目に訪問予定の地域が含まれる工業地域を示したものを、下のア～ウから1つ選び記号で答えなさい。



II 次の文は、アイさんとソロキャンプ経験者のリョーキさんの会話である。

アイさん：どこかキャンプにおすすめの場所あるかな？

リョーキさん：北海道はキャンプ場がたくさんあっていいですよ。<sup>とうやこ</sup>洞爺湖のあたりなんてどうですか。a)「洞爺湖有珠山ジオパーク」で大自然を楽しむことができますよ。

アイさん：それはいいね。あと、北海道のおいしいものをたくさん食べたいから、キャンプ場で直接仕入れることができるといいな。

リョーキさん：<sup>とかち</sup>十勝の方はどうですか？b) 十勝平野は農業がさかんで、直接十勝の食材を手に入れることができる場所もありますよ。

アイさん：北海道は夏にキャンプしに行きたいな。冬のキャンプもしてみたい。

リョーキさん：c) 冬は比較的暖かい九州地方がいいのではないかと。

アイさん：なるほどね。ああ、どこに行くか本当に迷うな。

問4 下線部 a) について、「洞爺湖有珠山ジオパーク」は「ユネスコ世界ジオパーク」に選ばれており、自然や文化を楽しむだけでなく、有珠山（火山）を通じて防災について学ぶことができる。

(1) 下の写真は、洞爺湖有珠山ジオパークを訪れた小学生が、火山マイスターから火山の魅力や火山災害について学んでいる場面である。洞爺湖有珠山ジオパークでは、旅行者が案内や助言を受けながら、自然観光資源の保護に配慮しつつ自然との触れあいを通して、自然環境に関する知識や理解を深める観光に力を入れている。このような新しい観光のありかたを何というか答えなさい。

(写真)

(2)有珠山は 2000 年に噴火し、周辺地域に大きな被害を与えたが、住民の日頃からの防災対策により人命の被害は出なかった。火山と共生するための対策として正しいものを、ア～エからすべて選び記号で答えなさい。

ア 防災マップを活用して定期的に避難訓練を行う。

イ 集落を泥流から守るため、砂防ダムを設置する。

ウ 主要な道路の下に温水が流れるパイプを通す。

エ 過去に同じ地域に暮らしていた人々の暮らしを調べる。

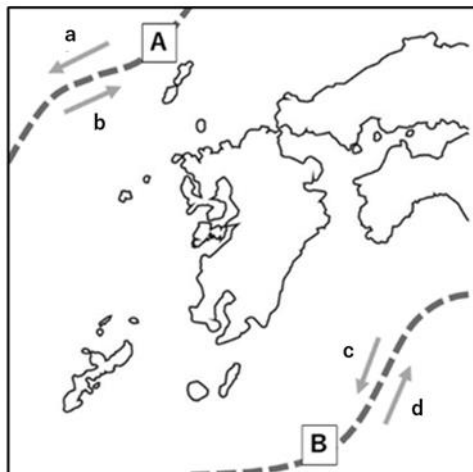


問5 下線部 b)について、下のア～エの文から、十勝平野の農業の特徴を1つ選び記号で答えなさい。



- ア 各地で稲作が行われており、農産物の生産量のほとんどを米が占めている。
- イ 稲作を中心に、野菜や肉用牛などその地域の自然環境に適した農業を行っている。
- ウ 気候や土壌が畑作に不向きなため、耕地のほとんどは牧草地で、酪農が中心となっている。
- エ 麦類やてんさい、ジャガイモなどの大規模な畑作が盛んで、大規模な酪農経営も行われている。

問6 下線部 c) について、九州地方が比較的温暖なことは、海流の影響を受けているからである。下図の海流 A・B のうち、黒潮はどれか記号で答えなさい。また、黒潮が流れる向きを、a～d から1つ選び記号で答えなさい。



[3]日本や世界で影響力を発揮した女性について、以下の I・II の問いに答えなさい。

I

(写真)

(写真)

(写真)

(写真)

(A)

(B)

(C)

(D)

推古天皇

紫式部

北条政子

問1 (A) は、以下の文献に記録されている女性を描いたものである。この文献名を漢字で答え、あわせて文中の空欄 ( ① )・( ② ) にあてはまる語句を答えなさい。

南に進むと ( ① ) 国に着く。ここは女王が都を置いている所である。…倭にはもともと男の王がいたが、その後国内が乱れたので一人の女王を王とした。名を ( ② ) といい、…一人の弟が国政を補佐している。

問2 (B) の人物について、下の系図は (B) の人物に関連するものである。説明として誤っているものを、ア～エから 1 つ選び記号で答えなさい。

(系図)

注：丸数字は天皇の即位順 / ★は女性を示す

出典 <http://kujoh-hujiwarashi.blog.jp/archives/1044075281.html>

- ア 聖徳太子の父は用明天皇である。
- イ 推古天皇の兄は敏達天皇である。
- ウ 聖徳太子のおばは推古天皇である。
- エ 推古天皇の父は欽明天皇である。

問3 (C)の人物について、この人物が生きた平安時代の文化の内容として正しいものを、ア～エから1つ選び記号で答えなさい。

- ア 唐風の文化をもとに、日本の風土や生活、日本人の感情に合った文化が生まれた。
- イ 宋の文化や武士の好みを反映した、写実的で力強い文化が生まれた。
- ウ 貴族の文化と、禅宗の影響を受けた武士の文化が混じり合った文化が生まれた。
- エ 社会の安定などを背景に、上方を中心に新興の町人を担い手とする文化が生まれた。

問4 (D)の人物について、以下の文章はこの人物に関するものである。( X )にあてはまる人物を答えなさい。また、空欄( ① )・( ② )にあてはまる語句の組み合わせとして正しいものを、ア～エから1つ選び記号で答えなさい。

北条政子は、( ① )上皇が幕府に対して挙兵した際に、( X )の妻として次のように、( ② )たちに結束を訴えたと『吾妻鏡』に記されています。

「みなの方、よく聞きなさい。これが最後の言葉です。( X )が朝廷の敵をたおし、幕府を開いてからは、官職といい、土地といい、みながいただいた恩は山より高く、海より深いものです。みながそれに報いたいという志はきっと浅くないはずです。名誉を大事にする者は、ただちに逆臣をうち取り、幕府を守りなさい。」(『吾妻鏡』部分要約)

- ア ①後鳥羽 ②御家人
- イ ①後鳥羽 ②旗本
- ウ ①後白河 ②御家人
- エ ①後白河 ②旗本

## II

(写真)

(写真)

(写真)

(写真)

(E)

(F)

(G)

(H)

ハリエット・ストウ

平塚らいてう

アンネ・フランク

マララ・ユスフザイ

問5 (E)の人物について、この人物は『アンクル・トムの小屋』の作者として知られ、また南北戦争を経験した人物である。この戦争について説明した以下の文の空欄(①)～(③)にあてはまる語句の組み合わせとして正しいものを、ア～エから1つ選び記号で答えなさい。

(①)を主張して、奴隷制度に反対する北部と、(②)を主張して、奴隷制度に賛成する南部の対立により起こった南北戦争は、両者ともに多大な被害を出した後、(③)の勝利で終了した。

- ア ①自由貿易 ②保護貿易 ③南部
- イ ①自由貿易 ②保護貿易 ③北部
- ウ ①保護貿易 ②自由貿易 ③南部
- エ ①保護貿易 ②自由貿易 ③北部

問6 (F)の人物について、この人物は1911年に文芸誌『青鞥』へ以下の文章を寄せている。文中の波線部で彼女が主張していることは何か答えなさい。

他によって生き、他の光によってかがやく、病人のように青白い顔の月である。私たちはかくされてしまった我が太陽を今や取りもどさなくてはならない。(『青鞥』部分要約)

問7 (G)の人物について、この人物がナチスから迫害を受けた理由を簡潔に答えなさい。

問8 (H)の人物について、以下の文章は彼女が国連総会で述べたスピーチの一部である。空欄(Y)にあてはまる語句を答えなさい。また、その翌年に受賞したものをア～オから1つ選び記号で答えなさい。

私は、自分たちの権利のためにたたかっている声なき人々のために、声を上げます。その権利とは、平和に生活する権利…そして(Y)を受ける権利です。…1人の子ども、1人の教師、1冊の本、そして1本のペン、それで世界を変えられます。…(Y)こそがただ一つの解決策です。(2013年7月12日 国連総会でのスピーチを部分要約)

- ア ノーベル生理学・医学賞
- イ ノーベル物理学賞
- ウ ノーベル化学賞
- エ ノーベル文学賞
- オ ノーベル平和賞

[4]たけしくんは、江戸時代の日本と外国の関係について簡潔にまとめてみました。

あとの問いに答えなさい。

- ① 1600 年代初頭 東南アジアに日本町が栄える
- ② 1641 年 鎖国の体制が固まる
- ③ 1720 年 禁書の令がゆるめられた
- ④ 1792 年 ロシアの使節ラクスマンがはじめて ( A ) に来航した
- ⑤ 1825 年 異国船打払令が出された
- ⑥ 1853 年 アメリカの使節ペリーが浦賀に来た
- ⑦ 1863 年 薩英戦争が発生した

問1 ①について、たけしくんは東南アジアについて調べ、クラスで発表を行いました。下にある、たけしくんの発表内容の一部を読み、地図中の太線が何をあらわしているのか答えなさい。

たけし：【資料】は東南アジアへの渡航を許可するために使用されたものになります。【資料】を分析すると日本とベトナムの交流がうかがえ、実際に実物を見ると日付の左側には赤色で印が押されているのが分かりました。また、左の地図の丸印は、多くの日本人が東南アジアへ移住し、日本町ができていた場所を示しています。

【資料】

(地図)

問2 ②について、鎖国の実態として正しいものを、ア～エから1つ選び記号で答えなさい。

- ア 長崎・対馬藩・薩摩藩の3か所が窓口であった。
- イ オランダ風説書により海外の情報を入手していた。
- ウ 長崎での主な輸入品は、銀・銅・俵物であった。
- エ 鎖国とは国を完全に閉ざした状態である。

問3 ③について、禁書の令をゆるめた頃に、倭約令や上げ米の制を定めた將軍名を答えなさい。

問4 ④について、( A )に当てはまる地名を答えなさい。また、その後ラクスマンは通商を求めたが拒否された。幕府が拒否した理由を簡潔に答えなさい。

問5 ⑤について、以下の文章を読み、空欄( B )にあてはまる語句を、ア～エから1つ選び記号で答えなさい。

イギリスに限らず、南蛮や西洋の国は幕府が厳禁している( B )教の国であるから、今後はどこの海辺の村においても、外国船が乗り寄せてきたのを見たならば、その村にいる人々で、ためらうことなく、ひたすら撃退し、もし強引に上陸したならばつかまえ、場合によっては討ち取っても差しつかえない。(異国船打払令 部分要約)

- ア ユダヤ
- イ 仏
- ウ キリスト
- エ イスラム

問6 ⑥について、ペリー来航後に、民衆の間で狂歌が誕生しました。下の狂歌中にある波線部は、ペリー来航時の何をさしたものが、それぞれ答えなさい。

「太平の眠気をさます上喜撰(注) たった四杯で夜もねられず」

(注) 上質なお茶の銘柄

問7 ⑦について、この戦争による薩摩藩の方針の変化とこの戦争前後の流れとして正しいものを、ア～エから1つ選び記号で答えなさい。

- ア 方針：尊王思想の強化      前後の流れ：桜田門外の変→安政の大獄→戊辰戦争
- イ 方針：尊王思想の限界      前後の流れ：安政の大獄→戊辰戦争→桜田門外の変
- ウ 方針：攘夷の継続              前後の流れ：桜田門外の変→戊辰戦争→安政の大獄
- エ 方針：攘夷の限界              前後の流れ：安政の大獄→桜田門外の変→戊辰戦争

[5]次は、公共の課題で「生成 AI」をテーマにレポートを作成することになった高校生サチコさんと大学生でサチコさんの兄・ハルトさんの会話である。これを読み、次の問いに答えなさい。

サチコさん：来月までにレポートを提出しないといけなくなったんだけど、いざ書こうとすると難しいな。兄さんは大学で AI について研究しているんだよね。ちょっと質問してもいいかな。

ハルトさん：いいよ。ちなみに、どんなテーマでレポートを書くんだい。

サチコさん：ニュースでよく聞く「生成 AI」について書こうと思っているんだ。

ハルトさん：おもしろそうだな。それで、何が聞きたいのかな。

サチコさん：a) ネットで調べてみると、「さまざまなコンテンツ（注1）を生成できる AI のこと（中略）新しいコンテンツを生成することを目的としています。」（注2）というものだそうなんだけど、誰が何のために開発したのかな。

ハルトさん：話題になったのはアメリカの b) 企業が開発した「chat-GPT」だね。

サチコさん：聞いたことがある。ニュースで話題になっていたけど、慎重な意見も多かったと思うよ。

ハルトさん：大きな問題があるからね。生成 AI の一つに画像生成があるんだけど、それは本当にゼロからつくるんじゃなくて、これまでたくさんの人たちがつくってきたコンテンツをもとに画像をつくるんだ。もしそのコンテンツとほとんど同じような画像を AI がつくったとしたらどうなるだろうか。

サチコさん：c) 知的財産権を侵害することになっちゃう。

ハルトさん：そう。この問題について多くの国で話し合いをしているみたいだけど、d) 解決に導くにはまだまだ時間がかかるかもね。

サチコさん：日本はどのように考えているのかな。

ハルトさん：他の国と相談してルール作りを行っているところだね。

サチコさん：でも最終的に国のルールを決めるのは国会だよな。

ハルトさん：国会は e) 「唯一の立法機関」だからな。

サチコさん：今までの話だと生成 AI が発展するのって悪いことばかりな気がする。何か良いことはないの。

ハルトさん：当然あるさ。うまく使えば、仕事が早く終わることになるかもしれない。そうするとその仕事でつくられる商品の f) 価格が下がることになったり、別の仕事ができるようになったりすることにつながるんだ。

サチコさん：なるほど。ありがとう、今日教えてもらったことを参考にしてレポートを書いてみるよ。

注1：インターネットなどの情報サービスにおいて、提供される文書・音声・映像などの個々の情報。

注2：[https://www.nri.com/jp/knowledge/glossary/lst/sa/generative\\_ai](https://www.nri.com/jp/knowledge/glossary/lst/sa/generative_ai) より引用

問1 下線部 a)について、インターネットを利用する時に気を付けるべきことを述べた文として、内容が誤っているものを、ア～エから1つ選び記号で答えなさい。

- ア インターネット上で情報発信をする際、知らないうちに個人情報が流出しないようにするため、発信する内容はよく考える必要がある。
- イ インターネット上で情報発信をする際、内容の正しさよりもその内容を誰よりも早く発信することが重要である。
- ウ インターネット上の情報はすべてが正しいとは限らないので、本やニュースといったほかの情報源も参考にすることが重要である。
- エ インターネット上の情報はすべてが正しいとは限らないので、その情報の発信者が信頼できるかどうかを常に注意する。

問2 下線部 b)について、以下の問いに答えなさい。

- (1) 次のグラフは情報通信業の企業数、従業員数、売上高における中小企業と大企業の割合である。これをみて以下の文章の ( ① ) ～ ( ③ ) に当てはまる語句の組み合わせとして正しいものを、ア～エから1つ選び記号で答えなさい。

(グラフ)

2023年版中小企業白書より作成

【文章】

企業数や従業員数の割合は ( ① ) 企業の方が大きいのに、売上高は ( ② ) 企業の方が大きいことから、従業員数1人あたりの売上高は ( ③ ) 企業の方が大きい。

- ア ① 大      ② 中小      ③ 大
- イ ① 大      ② 中小      ③ 中小
- ウ ① 中小      ② 大      ③ 大
- エ ① 中小      ② 大      ③ 中小

- (2) 企業は利潤を求めだけでなく、社会的責任 (CSR) を果たすべきだと考えられている。企業の社会的責任の例として誤っているものを、ア～エから1つ選び記号で答えなさい。



- ア 子どもたちを育成・支援するために返済義務のない奨学金制度を設立する。
- イ 環境保護のための活動を行う団体を支援する。
- ウ フードロス削減するため、余った食品を地域の子ども食堂に寄付する。
- エ 株主に自社製品を無償で提供する。

(3) グローバル化が進んだ現代では海外に製品を輸出する企業が増えてきた。そこで、1ドル=100円から1ドル=120円になったと仮定したとき、海外に製品を輸出する企業はどのような戦略をとるべきだろうか。次の文中の空欄(①)~(③)にあてはまる語句の組み合わせとして正しいものを、ア〜クから1つ選び記号で答えなさい。

【文章】

1ドル=100円から1ドル=120円になったときを円(①)とよび、海外に製品を輸出する企業にとってはより(②)になるため、輸出量を(③)。

- ア ① 高 ② 有利 ③ 増やす
- イ ① 高 ② 有利 ③ 減らす
- ウ ① 高 ② 不利 ③ 増やす
- エ ① 高 ② 不利 ③ 減らす
- オ ① 安 ② 有利 ③ 増やす
- カ ① 安 ② 有利 ③ 減らす
- キ ① 安 ② 不利 ③ 増やす
- ク ① 安 ② 不利 ③ 減らす

問3 下線部c)について、知的財産権は近年保障されるようになった権利である。次の問いに答えなさい。

(1) 知的財産権を日本国憲法で直接規定するためには憲法を改正する必要がある。憲法改正の手続きについて、解答欄にあわせて説明しなさい。

(2) 次のア〜エの文はそれぞれプライバシーの権利、環境権、知る権利、自己決定権のいずれかに関連するものである。プライバシーの権利に関連する文として正しいものを、ア〜エから1つ選び記号で答えなさい。

- ア 医療の分野では医師が患者に治療方法を説明し、患者からの同意を得ることが求められる。
- イ 住居への日当たりを確保するため、マンションの高層部分が非対称になっていることがある。
- ウ 情報化の進展で個人情報知らない間に収集・利用されることがないように制度化されている。
- エ 公正な政治の実現に役立つため、国や地方の役所に集まる情報の開示を求めることができる。

- 問4 下線部 d)について、解決策やルール作りがよいものかどうかを判断する代表的な考えとして、社会全体で無駄を省くという「効率」と、一人一人を尊重し不当にあつかわないという「公正」がある。次のア～エのうち「公正」を重視しているといえる文として正しいものを、ア～エから2つ選び記号で答えなさい。
- ア 議論がスムーズに進むように議論のルールを定め、そのルールに全員が合意してから議論を始める。
  - イ 議論がスムーズに進むように代表者を全員が参加する選挙で選んでから議論を始める。
  - ウ 損をする人がいたとしても、結果的に得をする人が最も多い案を採用するべきである。
  - エ 多くの人が得をするとしても、損をする人がいる場合はその案を採用するべきではない。

問5 下線部 e)について、以下の問いに答えなさい。

- (1) 下の文章中の ( ① )・( ② ) にあてはまる語句を書きなさい。  
国会は主権をもつ ( ① ) からえられた議員によって組織されるため「国権の ( ② ) 機関」であり、「唯一の立法機関」である。
- (2) 次の(a)～(d)は、表、資料1、2から読み取って書いた文である。読み取り内容が正しい文が2つある。その正しい組み合わせをア～エから1つ選び記号で答えなさい。

表 令和3年実施 衆議院議員選挙における有権者数

(表)

総務省資料より作成

## 資料1 令和3年実施 衆議院議員選挙における年齢層別の投票率

(グラフ)

総務省資料より作成

(注) 表2、資料1の数値は47都道府県からそれぞれ4投票区を抽出したものである。

## 資料2 内閣および議員が提出した法案のうち成立した件数

内閣法制局HPより作成

(グラフ)

- (a) 表と資料1から、年齢層が高ければ高いほど有権者数が多く、投票率が高いため、高齢者の関心が高い分野の政策を充実させる政権公約を発表することで、得票数を増やすことができると考えられる。
  - (b) 表と資料1から、65歳以上のすべての年齢層で有権者数と投票率が、29歳以下のすべての年齢層の有権者数と投票率を上回っているため、高齢者の関心が高い分野の政策を充実させる政権公約を発表することで、得票数を増やすことができると考えられる。
  - (c) 資料2から、内閣が提出する法案の方が、議員が提出する法案の方よりも成立する件数が多いことから、議員の提出する法案の成立率が低いことがわかる。
  - (d) 資料2から、内閣が提出する法案の方が、議員が提出する法案の方よりも成立する件数が多いことから、立法については行政府である内閣も重要だということがわかる。
- ア (a)、(c)    イ (a)、(d)    ウ (b)、(c)    エ (b)、(d)

問6 下線部f)の価格について、次の資料3をもとにほうれん草の入荷量と価格の関係について説明しなさい。

資料3 福井市中央卸売市場でのほうれん草の入荷量と1kg当たりの価格

(グラフ)

「福井市中央卸売市場年報」令和4年より作成

問7 以下の文章はサチコさんがレポートを作成するために書いたメモの一部である。会話を参考にそのメモの一部として誤っているものを、ア～エから1つ選び記号で答えなさい。

- ア 「生成 AI」とはこれまで作られてきたコンテンツをつかって新しいコンテンツを生み出すものである。
- イ 「生成 AI」が活用されることによって私たちが持つ権利を侵害される可能性がある。
- ウ 「生成 AI」が活用されることによって私たちの生活がより豊かになる可能性がある。
- エ 「生成 AI」を活用して仕事したり、研究したりすることは法律の範囲内で認められている。

